

Profesor Baltaru Daniela Georgeta

Școala Gimnazială Drăgoiești

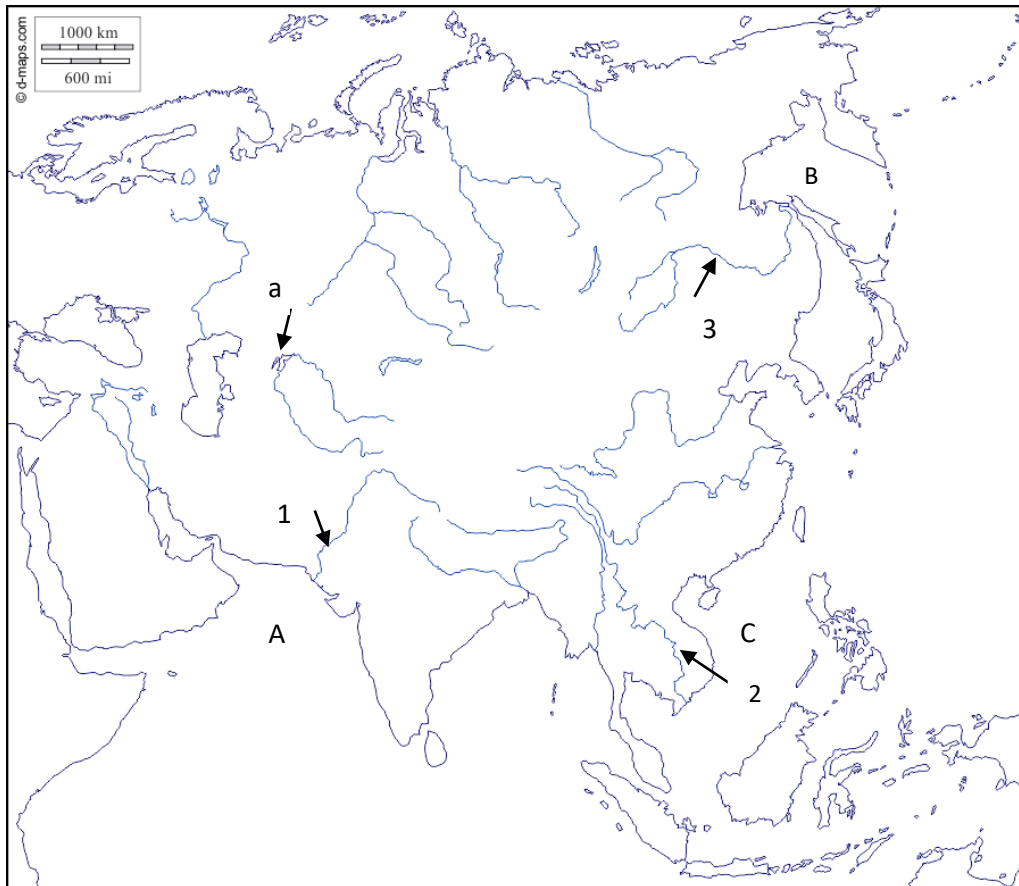
Test – Asia

Toate subiectele sunt obligatorii; timp de lucru 50 min; fiecare lucrare primește din oficiu 10p

Subiectul I

20 puncte

Analizează harta de mai jos și notează:




1. numele fluviilor marcate pe hartă cu cifrele **1,2,3**
2. numele mărilor marcate pe hartă cu literele **A,B,C**
3. numele lacului marcat pe hartă cu litera **a**
4. numele unui fluviu care se varsă în lacul notat pe hartă cu litera **a**.

Subiectul II

12 puncte

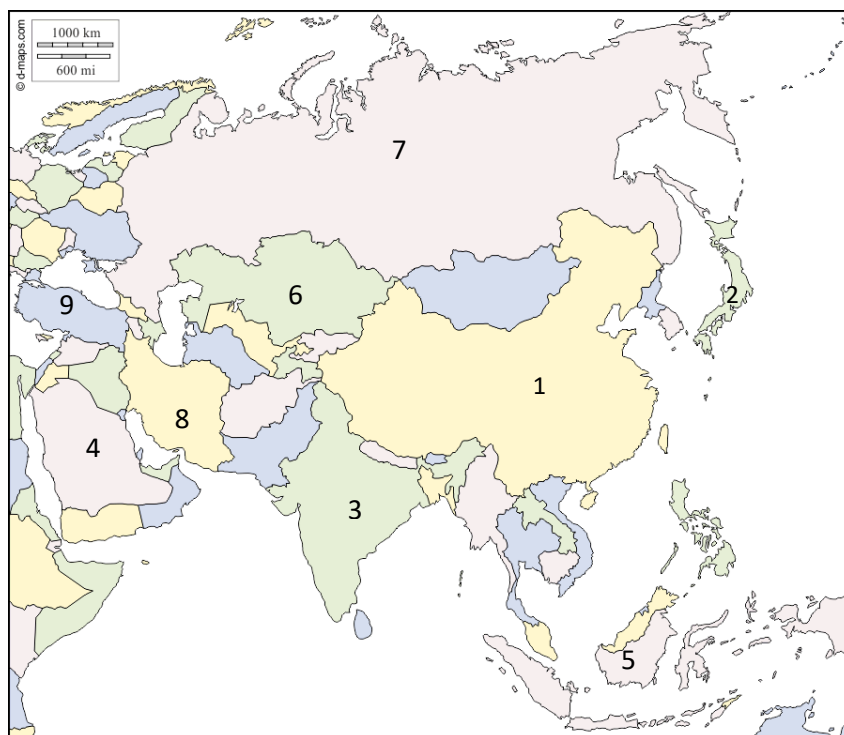
Identificați în imaginile de mai jos tipuri de relief din Asia.

Dați exemple de zone din Asia unde se regăsesc aceste tipuri de relief.



Subiectul III

18 puncte



Analizează Harta politică a Asiei de mai jos și rezolvă cerințele:

- numește țările marcate pe hartă, cu cifrele 1,2,3,4,5,6,7,8,9
- cifra cu care este notat un stat peninsular
- cifra cu care este notat un stat insular
- cifra cu care este notat un stat cu ieșire la Marea Mediterană
- cifra cu care este notat

statul a cărui capitală și-a schimbat denumirea în 2019 (Nur Sultan)

- cifra cu care este notat un stat în care predomină șintoismul
- cifra cu care este notat un stat în care se găsește taiga
- cifra cu care este notat un stat în care este promovată o politică antinatalistă (copil unic).
- cifra cu care este notat un stat cu climat ecuatorial.
- cifra cu care este notat statul care are capitala la Teheran.

Subiectul IV

20 puncte

Completează afirmațiile următoare cu informația corespunzătoare:

- Hermelina și zibelinele trăiesc în zona de vegetație numită.....
- Marea Caspică este un lac de origine
- Polul ploilor a fost stabilit în statul numit.....
- Limba cu cei mai mulți vorbitori în Asia este
- În Asia Centrală este specifică tipul de casă numită
- Cel mai mare oraș ca număr de locuitori al Chinei este.....
- Statul în care este cel mai populat megalopolis din lume este
- Thailanda este ca formă de guvernare
- Fluviile Huang He, Chang Jiang și Mekong izvorăsc din Podișul
- Vulcanul Krakatau aparține de statul

Subiectul V

20 puncte

Realizați un text geografic de maxim 15 rânduri în care să explicați expresia *India este o țară a contrastelor*.

Test - Asia

Barem de corectare și notare

Subiectul I 20 puncte Se acordă :

1. 1 - Indus, 2 - Mekong, 3 - Amur (3x2p=6p)
2. A – Marea Arabiei, B - Marea Ohotsk, C – Marea Chinei de Sud (3x2p=6p)
3. a- Lacul Aral 4p
4. Amu- Daria/ Sîr-Daria 4p

Subiectul II 12 puncte Se acordă:

- a. relief deșertic – Deșertul Gobi, Deșertul Arabiei 2 +2 puncte
- b. relief glaciatic - Munții Himalaya 2 + 2 puncte
- c. relief litoral – litoralul Indian 2+ 2 puncte

Subiectul III 18 puncte Se acordă câte 1 punct pentru fiecare răspuns corect:

- a. 1- China, 2- Japonia , 3- India, 4- Arabia Saudită, 5 - Indonezia, 6- Kazahstan, 7- Rusia, 8-Iran, 9- Turcia 9 puncte
- b.- 3, c. - 5 , d. 9, e.-6, f.-2, g.-7, h.-1, i- 5, j.- 8. (1px9=9puncte)

Subiectul IV 20 puncte Se acordă câte 2 puncte pentru fiecare răspuns corect:

1. taiga, 2. tectonică, 3. India , 4. chineza/mandarina, 5. iurtă, 6.Shanghai,
7. Japonia, 8. monarhie, 9. Tibet, 10. Indonezia

Subiectul V - text geografic 20 puncte

Se acordă 14 puncte pentru folosirea corectă a termenilor, denumirilor geografice, 6 puncte pentru coerența textului.

Se acordă 10 puncte din oficiu.

Resurse bibliografice:

1. Marius Cristian Neacșu, Geografie, Manual pentru clasa a VII-a, editura CD Press, 2017;
2. Silviu Neguț, Ionuț Popa, Manual pentru clasa a VII-a, editura Art Klett, 2019;
3. Steluța Dan, Nicolae Lazăr, Geografia continentelor extraeuropene, editura Art Klett.