

**Test - Hidrosfera**

*Notă: Toate subiectele sunt obligatorii. Timp de lucru 50 minute. Se acordă 10 puncte din oficiu*

**Subiectul I.** **20 puncte**

**Completați spațiile libere cu răspunsurile corespunzătoare:**

1. Îvelișul de apă al Pământului formează.....
2. Oceanele și mările alcătuiesc împreună.....
3. Cel mai întins și mai adânc ocean este Oceanul.....
4. Mările situate între două sau trei continente se numesc.....
5. Cel mai cald ocean de pe planetă este Oceanul.....
6. Valurile produse de cutremurele sau erupțiile submarine se numesc .....
7. Fluviul Nil formează la gura de vărsare .....
8. Pâraiele, râurile, fluviile sunt ape.....
9. Cele mai multe ape curgătoare își au izvoarele în forma de relief numită.....
10. Lacurile create de oameni în diferite scopuri se numesc.....

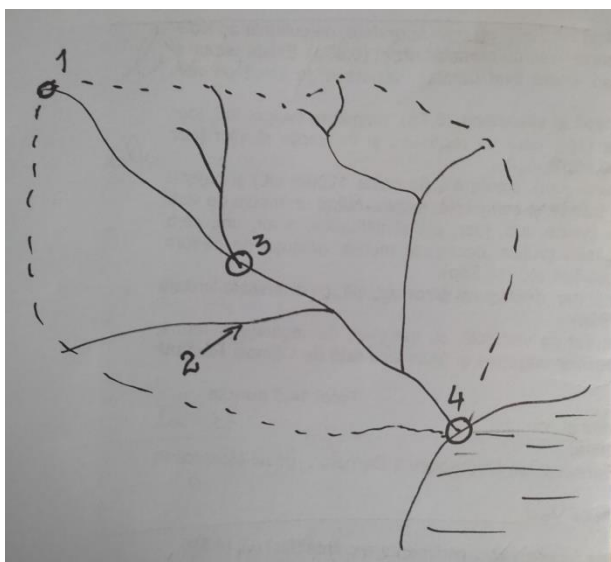
**Subiectul II** **18 puncte**

**Încercuți litera corespunzătoare răspunsului corect pentru fiecare dintre afirmațiile de mai jos:**

1. Marea Neagră este o mare:  
a) mărginașă;    b) continentală;    c) mediterană.
2. Lacul Baikal este după modul de formare un lac:  
a) glaciatic;    b) vulcanic;    c) tectonic.
3. Oceanul Arctic nu comunică direct cu:  
a) Oceanul Atlantic;    b) Oceanul Indian;    c) Oceanul Pacific.
4. Marea cu salinitate foarte ridicată este:  
a) Mediterană;    b) Roșie;    c) Nordului.
5. Ghețari se găsesc în munții:  
a) Carpați;    b) Alpi;    c) Ural.
6. Mările creează la vărsarea fluviilor în mare/ocean:  
a) deltă;    b) estuar    c) fiord

**Subiectul III** **12puncte**

**Pe desenul de mai jos identificați elementele unui râu și notați-le pe spațiile punctate.**

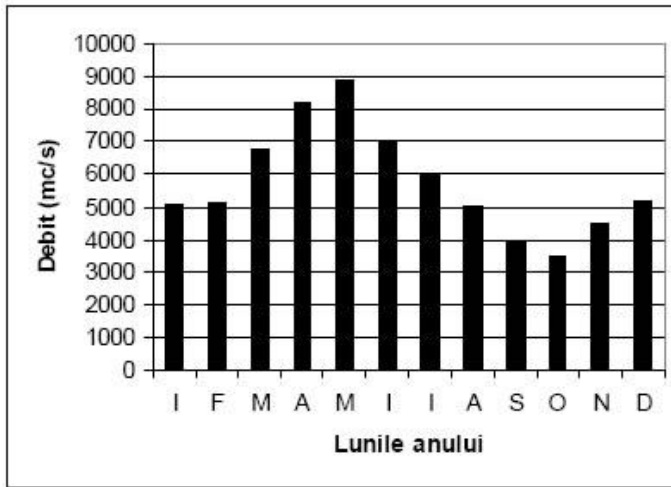


1. ....
2. ....
3. ....
4. ....

**Subiectul IV**

**20 puncte**

Graficul de mai jos prezintă evoluția debitului Dunării la Oltenița. Analizați graficul și răspundeți la următoarele întrebări:

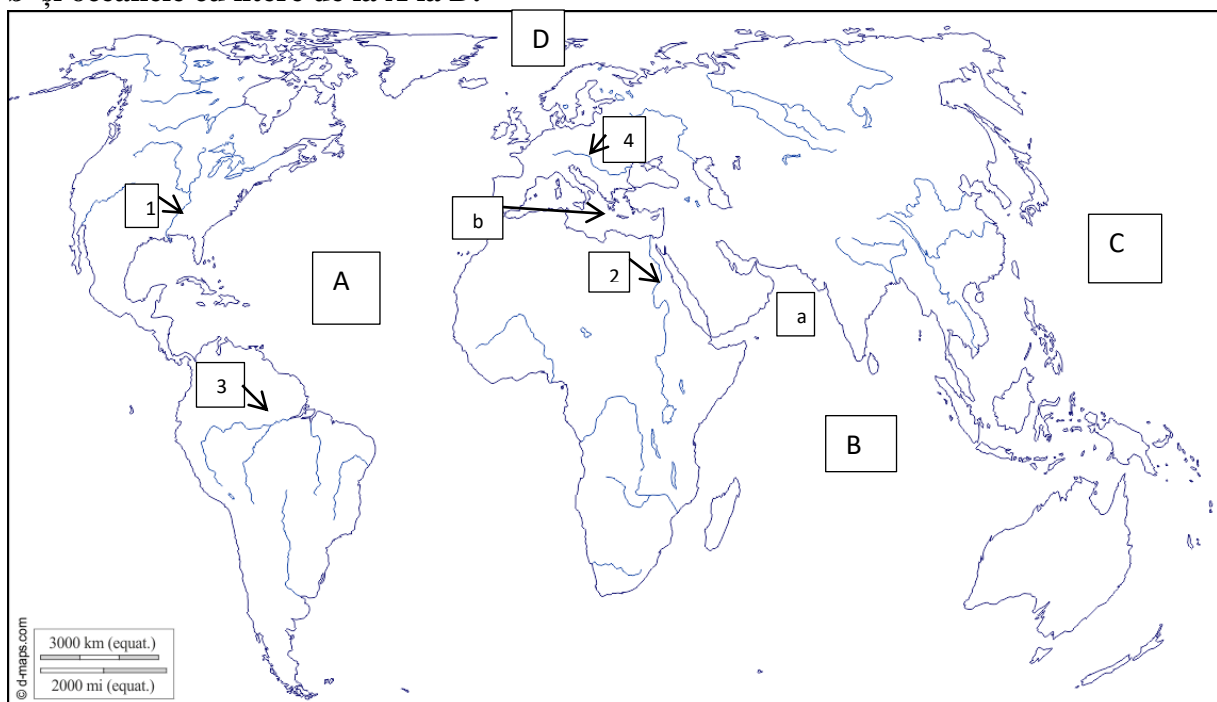


1. Care este luna cu cea mai mare valoare de debit? .....
2. Care este luna cu cea mai mică valoare de debit ? .....
3. Precizați două luni în care se înregistrează debite aproape identice.....

**Subiectul V**

**20 puncte**

Pe harta de mai jos identificați fluviile notate cu cifre de la 1 la 4, mările cu literele a și b și oceanele cu litere de la A la D.



- |         |         |        |
|---------|---------|--------|
| 1 ..... | a.....  | A..... |
| 2 ..... | b ..... | B..... |
| 3 ..... |         | C..... |
| 4 ..... |         | D..... |

## Test Hidrosfera

Barem de notare și corectare - clasa a V-a

- Se acordă 10 puncte din oficiu.

Subiectul I - 20 p.

Se acordă câte 2 puncte, pentru fiecare răspuns corect:

1. hidrosfera, 2. Oceanul planetar, 3. Pacific , 4. intercontinentale, 5. Oceanul Indian, 6. Tsunami, 7. Deltă, 8. ape curgătoare, 9. munte, 10. antropice

Subiectul II – 18 puncte

Se acordă câte 3 puncte pentru fiecare răspuns corect: 1b, 2c, 3b, 4b, 5b, 6b

Subiectul III -12 puncte

Se acordă câte 3 puncte pentru fiecare răspuns corect:

- 1-izvor, 2 –afluent, 3 – punct de confluență, 4 –gură de vărsare.

Subiectul IV - 20 puncte Se acordă:

1. mai            5 p
2. octombrie    5 p
3. ianuarie – februarie (5p+5p)

Subiectul V - 20 puncte Se acordă câte 2 puncte pentru fiecare răspuns corect:

A- Oceanul Atlantic, B- Oceanul Indian, C- Oceanul Pacific, D- Oceanul Arctic

a. Marea Arabiei, b. Marea Mediterană

1. Mississippi, 2 Nil, 3. Amazon, 4. Dunăre.

Surse bibliografice:

1. Violeta Dascălu, Diana Popovici, „Geografie, Manual pentru clasa a V-a”, editura Litera, București, 2017
2. Manuela Popescu, Ioan Mărculeț, „Geografie, Manual pentru clasa a V-a”, editura Aramis, București, 2017
3. Steluța Dan, Carmen Camelia Rădulescu, „Concentrat de geografie, clasa a V-a”, editura Art educațional, București, 2017